

Abschreibkarte 3

Riese

Tier

Wiese

Lied

Papier

Diener

Niete

sie

die

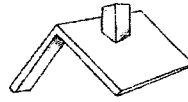
frieren

tief

Name: _____

Datum: _____

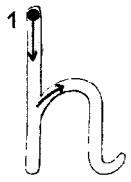
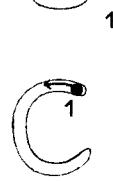
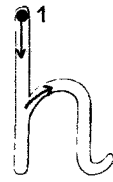
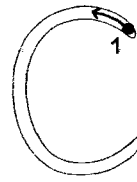
Ch



Dach

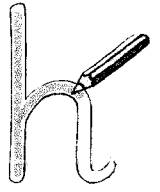
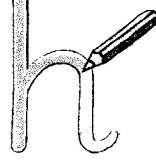
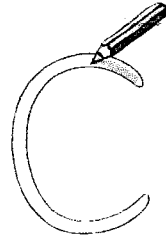


Milch



ch

Ch



Ch

ch

Ch

Ch

Ch

h

ch

ch

Ch

Ch

Ch	ch
----	----

Abschreibkarte 4

Wichtel

Woche

Loch

Trichter

Eichel

Drachen

Elch

Sachen


Richter

Dach


Teppich

Lesen - Schreiben - Malen


Male einen roten Drachen.




Male einen lila Trichter.




Male ein Licht am Himmel.



Male achtmal eine Acht.



Male einen lachenden Wichtel.





Wichtel

Die frechen

Tobi



Es ist Sommer.

Papas Paradies

ist eine Wiese

hinter den acht

Felsen.



2



sie fort.

Dann rennen

lachen.

Die frechen Wichtel

Na wartet!

8



Er wird wach.

Papa niest.

an Papas Nase.

Die Feder ist

7



Er nimmt sie.

findet eine Feder.

Ein anderer

9

Doch Papa
hat Pech.

Hinter den Felsen

reden leise

drei Wichtel

miteinander.



4

Es ist warm
in der Sonne.

Es ist friedlich.

Niemand will,

dass Papa etwas

machen soll.

Herrlich!

3

Ein Wichtel flechtet
heimlich etwas
in Papas Haare.



5



Leseblatt



März 2020 - Blatt 4



1 Silben

1	lo	Chi	dom	Nei	Ler	Rie
2	Die	den	lim	dot	Hei	Fi
3	Hei	nie	chen	For	nie	Sol
4	pich	rol	Del	Ha	che	lie

2 Quatschwörter in der Tobi - Sprache

Filosi Dachlodi Lichsuta Nachbole

Hansolach Roledan Sichelidon

3 Neue Wörter

Fach Nacht Dach Sachen Woche

Trichter Eichel Wichtel Elch

lachen riechen flechten machen

4 Sätze

Ein Wichtel macht das Licht an.

Alle roten Drachen lachen.


Tier - Suchsel

Aufgabe:

Suche in den Buchstabengitter die folgenden Wörter.


Male jedes Wort, das du gefunden hast, in einer anderen Farbe an.

Achtung: Alle Buchstaben sind im Rätsel groß geschrieben!

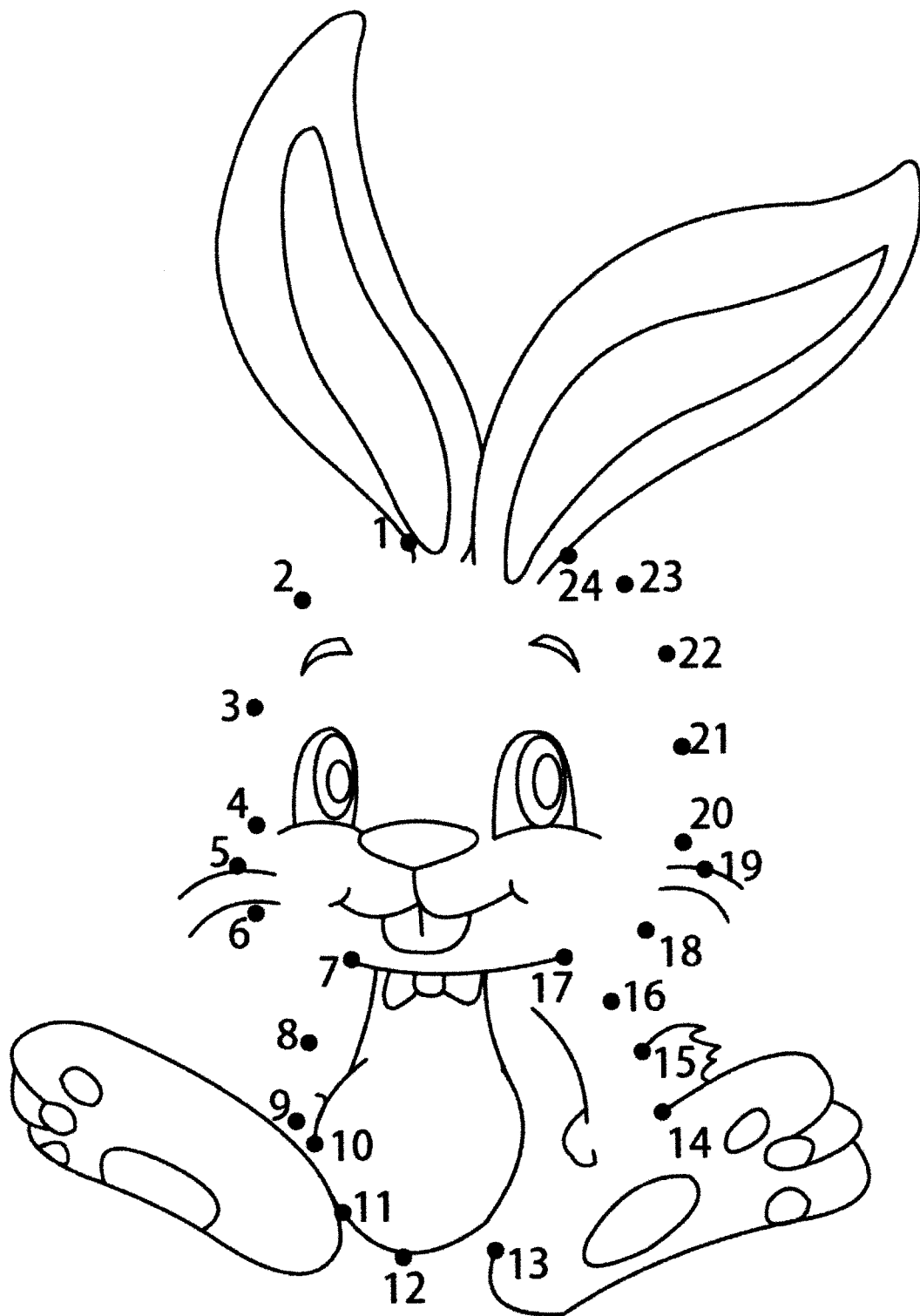


Ameise	Hund	Dino	Drache	Wespe	Panda
Wolf	Adler	Elefant	Affe	Ratte	Hase

S	L	W	E	S	P	E	I	O	M	E
T	I	L	D	A	I	W	R	F	I	T
A	F	F	E	N	F	E	M	E	D	L
T	P	A	P	T	A	M	E	I	S	E
R	E	S	E	I	O	F	S	H	N	I
F	H	U	N	D	A	S	A	E	F	P
S	I	S	W	M	E	T	O	D	O	E
F	M	F	P	A	N	D	A	L	F	L
R	I	A	T	N	E	M	O	F	H	I
R	A	T	T	E	P	A	D	L	E	R
N	D	T	I	S	I	S	N	O	F	R
E	W	D	R	A	C	H	E	I	S	F
D	H	I	F	N	H	I	F	H	F	D
A	O	A	E	H	A	S	E	E	P	T
W	O	L	F	I	H	R	D	I	N	O
O	F	A	M	N	D	F	L	W	M	E
D	I	O	E	L	E	F	A	N	T	N







Mathe - Malen nach Zahlen



Zahlenraum bis 20

1

	
<input type="text"/> <input type="text"/> <input type="text" value="3"/> <input type="text"/> <input type="text"/>	<input type="text"/> <input type="text"/> <input type="text"/> <input type="text" value="9"/> <input type="text"/>
	
<input type="text"/> <input type="text"/> <input type="text"/> <input type="text"/> <input type="text" value="15"/>	<input type="text"/> <input type="text"/> <input type="text"/> <input type="text"/> <input type="text"/>


2

<input type="text" value="0"/>	<input type="text"/>	<input type="text" value="3"/>	<input type="text"/>	<input type="text"/>	<input type="text"/>	<input type="text"/>	<input type="text"/>	<input type="text"/>
<input type="text"/>	<input type="text"/>	<input type="text" value="6"/>	<input type="text" value="10"/>	<input type="text"/>	<input type="text"/>	<input type="text"/>	<input type="text"/>	<input type="text"/>
<input type="text"/>	<input type="text"/>	<input type="text"/>	<input type="text"/>	<input type="text"/>	<input type="text" value="14"/>	<input type="text"/>	<input type="text" value="17"/>	<input type="text"/>

3

<input type="text"/>	<input type="text"/>	<input type="text"/>	<input type="text"/>	<input type="text"/>	<input type="text"/>	<input type="text"/>	<input type="text" value="10"/>	<input type="text" value="11"/>	<input type="text" value="12"/>
<input type="text" value="7"/>	<input type="text" value="8"/>	<input type="text" value="9"/>	<input type="text"/>	<input type="text"/>	<input type="text"/>	<input type="text"/>	<input type="text"/>	<input type="text"/>	<input type="text"/>
<input type="text" value="10"/>	<input type="text"/>	<input type="text"/>	<input type="text"/>	<input type="text"/>	<input type="text"/>	<input type="text"/>	<input type="text" value="17"/>	<input type="text" value="18"/>	<input type="text" value="19"/>

Zahlenfolgen 1



Welche Zahl fehlt?

1 ___ 3 12 ___ 14 3 ___ 5 11 ___ 13

13 ___ 15 4 ___ 6 14 ___ 16 6 ___ 8

17 ___ 19 16 ___ 18 18 ___ 20 17 ___ 19

8 ___ 10 10 ___ 12 7 ___ 9 15 ___ 17

14 ___ 16 5 ___ 7 13 ___ 15 2 ___ 4


15 ___ 17 8 ___ 10 18 ___ 20 17 ___ 19

12 ___ 14 10 ___ 12 11 ___ 13 7 ___ 9

4 ___ 6 5 ___ 7 6 ___ 8 13 ___ 15

16 ___ 18 8 ___ 10 17 ___ 19 18 ___ 20

Zahlenfolgen 2



Welche Zahl fehlt?

11 → → 13 12 → → 14 8 → → 10

13 → → 15 9 → → 11 7 → → 9

4 → → 6 6 → → 8 16 → → 18

10 → → 12 14 → → 16 15 → → 17


2 → → 4 5 → → 7 18 → → 20

3 → → 5 1 → → 3 17 → → 19

2 → → 4 5 → → 7 18 → → 20

3 → → 5 1 → → 3 17 → → 19

Zahlenfolgen 3



Welche Zahl fehlt?

12 ____ 14 1 ____ 3 11 ____ 13 3 ____ 5

4 ____ 6 13 ____ 15 6 ____ 8 14 ____ 16

16 ____ 18 17 ____ 19 17 ____ 19 18 ____ 20

10 ____ 12 8 ____ 10 15 ____ 17 7 ____ 9

5 ____ 7 14 ____ 16 2 ____ 4 13 ____ 15


8 ____ 10 15 ____ 17 17 ____ 19 18 ____ 20

10 ____ 12 12 ____ 14 7 ____ 9 11 ____ 13

5 ____ 7 4 ____ 6 13 ____ 15 6 ____ 8

8 ____ 10 16 ____ 18 18 ____ 20 17 ____ 19

Zahlenfolgen 4



Welche Zahl fehlt?

12 \rightarrow \rightarrow 14 11 \rightarrow \rightarrow 13 8 \rightarrow \rightarrow 10

9 \rightarrow \rightarrow 11 13 \rightarrow \rightarrow 15 7 \rightarrow \rightarrow 9

6 \rightarrow \rightarrow 8 4 \rightarrow \rightarrow 6 16 \rightarrow \rightarrow 18

14 \rightarrow \rightarrow 16 10 \rightarrow \rightarrow 12 15 \rightarrow \rightarrow 17

5 \rightarrow \rightarrow 7 2 \rightarrow \rightarrow 4 18 \rightarrow \rightarrow 20

1 \rightarrow \rightarrow 3 3 \rightarrow \rightarrow 5 17 \rightarrow \rightarrow 19

5 \rightarrow \rightarrow 7 2 \rightarrow \rightarrow 4 18 \rightarrow \rightarrow 20

1 \rightarrow \rightarrow 3 3 \rightarrow \rightarrow 5 17 \rightarrow \rightarrow 19